
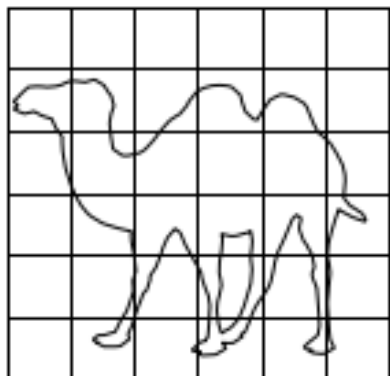


Př. 1: Doplň co nejpřesněji podle vzoru:



Př. 2: Jedna dlaždice má rozměry 20 cm a 35 cm. Kolik dlaždic budeme potřebovat na obložení stěny dlouhé 4,48 m a vysoké 2,5 m?


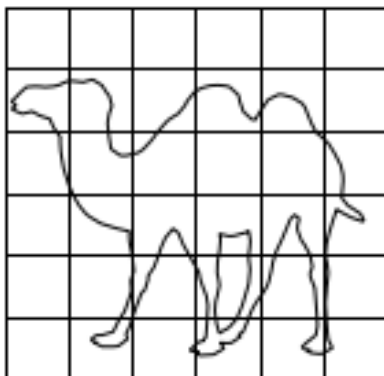
Př. 3: Kolik bude stát oplocení dětského hřiště ve tvaru obdélníku, jehož plocha je 384 m^2 a jedna z jeho stran je dlouhá 24 m? Cena za 1 m pletiva je 230 Kč?

Př. 4: Chlapec má krok dlouhý 68 cm. Kolika kroky obejde čtvercový dům o délce stěny 8,5 m?

Př. 5: Kolik bude stát osivo na osetí obdélníkového pozemku o rozměrech 400 dm a 65 dm, když 1 kg osiva stojí 58 Kč a stačí na 2000 dm^2 ?

Př. 6: Na 100 dm^2 je potřeba 21 dlaždic. Kolik dlaždic bude na chodníku dlouhém 0,3 km a širokém 27 dm?

Př. 1: Doplň co nejpřesněji podle vzoru:



Př. 2: Jedna dlaždice má rozměry 20 cm a 35 cm. Kolik dlaždic budeme potřebovat na obložení stěny dlouhé 4,48 m a vysoké 2,5 m?


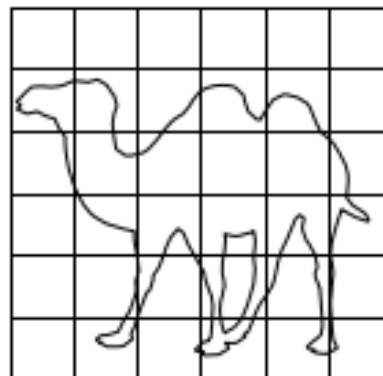
Př. 3: Kolik bude stát oplocení dětského hřiště ve tvaru obdélníku, jehož plocha je 384 m^2 a jedna z jeho stran je dlouhá 24 m? Cena za 1 m pletiva je 230 Kč?

Př. 4: Chlapec má krok dlouhý 68 cm. Kolika kroky obejde čtvercový dům o délce stěny 8,5 m?

Př. 5: Kolik bude stát osivo na osetí obdélníkového pozemku o rozměrech 400 dm a 65 dm, když 1 kg osiva stojí 58 Kč a stačí na 2000 dm^2 ?

Př. 6: Na 100 dm^2 je potřeba 21 dlaždic. Kolik dlaždic bude na chodníku dlouhém 0,3 km a širokém 27 dm?

Př. 1: Doplň co nejpřesněji podle vzoru:



Př. 2: Jedna dlaždice má rozměry 20 cm a 35 cm. Kolik dlaždic budeme potřebovat na obložení stěny dlouhé 4,48 m a vysoké 2,5 m?

Př. 3: Kolik bude stát oplocení dětského hřiště ve tvaru obdélníku, jehož plocha je 384 m^2 a jedna z jeho stran je dlouhá 24 m? Cena za 1 m pletiva je 230 Kč?

Př. 4: Chlapec má krok dlouhý 68 cm. Kolika kroky obejde čtvercový dům o délce stěny 8,5 m?

Př. 5: Kolik bude stát osivo na osetí obdélníkového pozemku o rozměrech 400 dm a 65 dm, když 1 kg osiva stojí 58 Kč a stačí na 2000 dm^2 ?

Př. 6: Na 100 dm^2 je potřeba 21 dlaždic. Kolik dlaždic bude na chodníku dlouhém 0,3 km a širokém 27 dm?