


Na obrázku je ve čtvercové síti znázorněn obrazec.

Rozhodni o uvedených tvrzeních, zda jsou pravdivá (A), či nikoliv (N).

- 6.1. Obrazec je osově souměrný.
- 6.2. Obsah vybarvené části je větší než obsah nevybarvené části.
- 6.3. Obsahy nevybarvené a vybarvené části se liší o obsah 5 čtverečků.

	A	N
6.1.	<input type="checkbox"/>	<input type="checkbox"/>
6.2.	<input type="checkbox"/>	<input type="checkbox"/>
6.3.	<input type="checkbox"/>	<input type="checkbox"/>




Na obrázku je ve čtvercové síti znázorněn obrazec.

Rozhodni o uvedených tvrzeních, zda jsou pravdivá (A), či nikoliv (N).

- 6.1. Obrazec je osově souměrný.
- 6.2. Obsah vybarvené části je větší než obsah nevybarvené části.
- 6.3. Obsahy nevybarvené a vybarvené části se liší o obsah 5 čtverečků.

	A	N
6.1.	<input type="checkbox"/>	<input type="checkbox"/>
6.2.	<input type="checkbox"/>	<input type="checkbox"/>
6.3.	<input type="checkbox"/>	<input type="checkbox"/>




Na obrázku je ve čtvercové síti znázorněn obrazec.

Rozhodni o uvedených tvrzeních, zda jsou pravdivá (A), či nikoliv (N).

- 6.1. Obrazec je osově souměrný.
- 6.2. Obsah vybarvené části je větší než obsah nevybarvené části.
- 6.3. Obsahy nevybarvené a vybarvené části se liší o obsah 5 čtverečků.

	A	N
6.1.	<input type="checkbox"/>	<input type="checkbox"/>
6.2.	<input type="checkbox"/>	<input type="checkbox"/>
6.3.	<input type="checkbox"/>	<input type="checkbox"/>



Na obrázku je ve čtvercové síti znázorněn obrazec.

Rozhodni o uvedených tvrzeních, zda jsou pravdivá (A), či nikoliv (N).

- 6.1. Obrazec je osově souměrný.
- 6.2. Obsah vybarvené části je větší než obsah nevybarvené části.
- 6.3. Obsahy nevybarvené a vybarvené části se liší o obsah 5 čtverečků.

	A	N
6.1.	<input type="checkbox"/>	<input type="checkbox"/>
6.2.	<input type="checkbox"/>	<input type="checkbox"/>
6.3.	<input type="checkbox"/>	<input type="checkbox"/>

