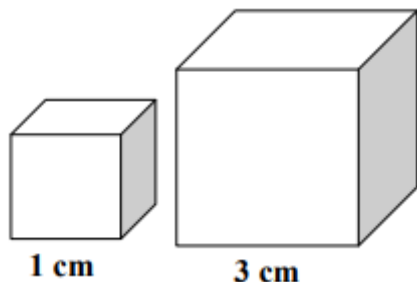


Př. 1: Malá krychle má délku hrany 1 cm, velká má délku hrany 3 cm.



Vypočítej povrch malé krychle.
Vypočítej povrch velké krychle.
Kolikrát je povrch druhé krychle větší?

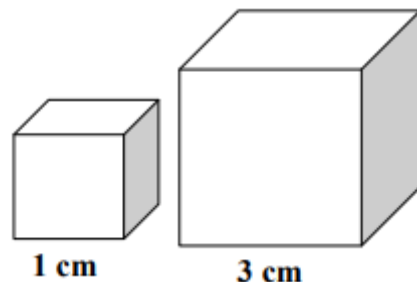
Př. 2: Povrch krychle je 96 cm^2 .
Jakou délku má její hrana?

Př. 3: Krychle má délku hrany 50 cm. Kolikrát větší bude povrch krychle, jestliže se její hrana dvakrát zvětší?

Př. 4: Součet délek hran krychle je 48 dm. Vypočítej povrch této krychle.

Př. 5: Krychle je sestavena z 64 malých krychliček s délkou hrany 3 cm. Jaký je povrch velké krychle?

Př. 1: Malá krychle má délku hrany 1 cm, velká má délku hrany 3 cm.



Vypočítej povrch malé krychle.
Vypočítej povrch velké krychle.
Kolikrát je povrch druhé krychle větší?

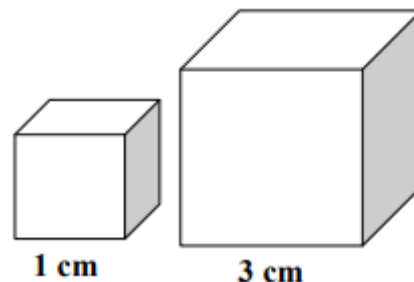
Př. 2: Povrch krychle je 96 cm^2 .
Jakou délku má její hrana?

Př. 3: Krychle má délku hrany 50 cm. Kolikrát větší bude povrch krychle, jestliže se její hrana dvakrát zvětší?

Př. 4: Součet délek hran krychle je 48 dm. Vypočítej povrch této krychle.

Př. 5: Krychle je sestavena z 64 malých krychliček s délkou hrany 3 cm. Jaký je povrch velké krychle?

Př. 1: Malá krychle má délku hrany 1 cm, velká má délku hrany 3 cm.



Vypočítej povrch malé krychle.
Vypočítej povrch velké krychle.
Kolikrát je povrch druhé krychle větší?

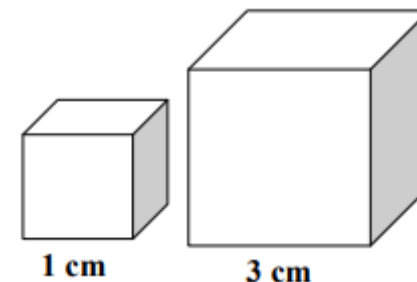
Př. 2: Povrch krychle je 96 cm^2 .
Jakou délku má její hrana?

Př. 3: Krychle má délku hrany 50 cm. Kolikrát větší bude povrch krychle, jestliže se její hrana dvakrát zvětší?

Př. 4: Součet délek hran krychle je 48 dm. Vypočítej povrch této krychle.

Př. 5: Krychle je sestavena z 64 malých krychliček s délkou hrany 3 cm. Jaký je povrch velké krychle?

Př. 1: Malá krychle má délku hrany 1 cm, velká má délku hrany 3 cm.



Vypočítej povrch malé krychle.
Vypočítej povrch velké krychle.
Kolikrát je povrch druhé krychle větší?

Př. 2: Povrch krychle je 96 cm^2 .
Jakou délku má její hrana?

Př. 3: Krychle má délku hrany 50 cm. Kolikrát větší bude povrch krychle, jestliže se její hrana dvakrát zvětší?

Př. 4: Součet délek hran krychle je 48 dm. Vypočítej povrch této krychle.

Př. 5: Krychle je sestavena z 64 malých krychliček s délkou hrany 3 cm. Jaký je povrch velké krychle?