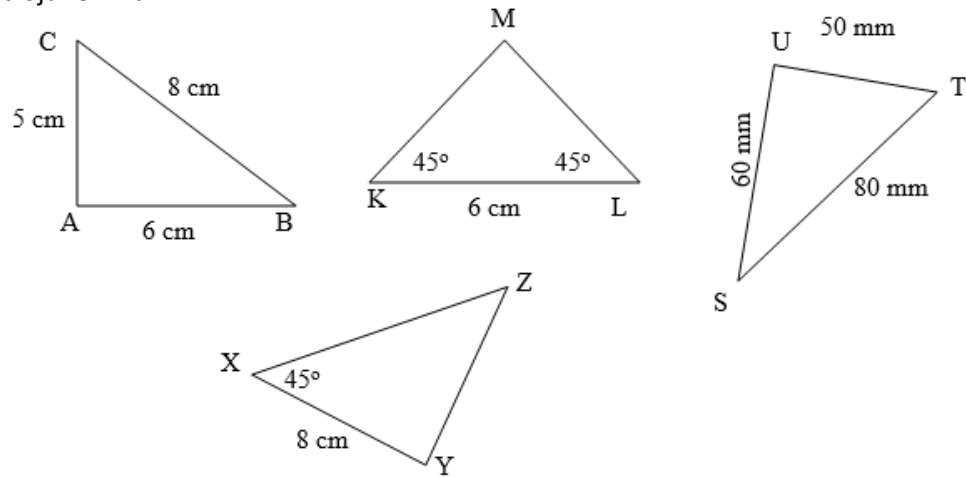
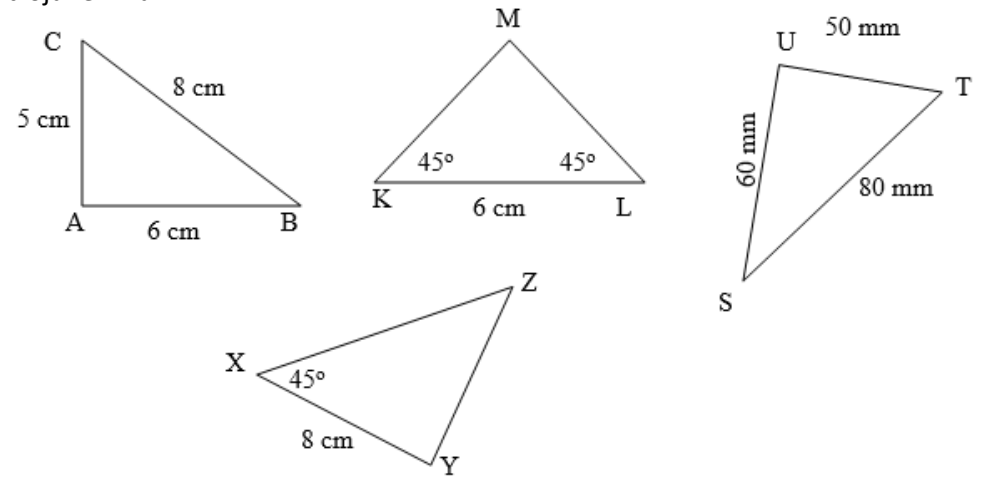


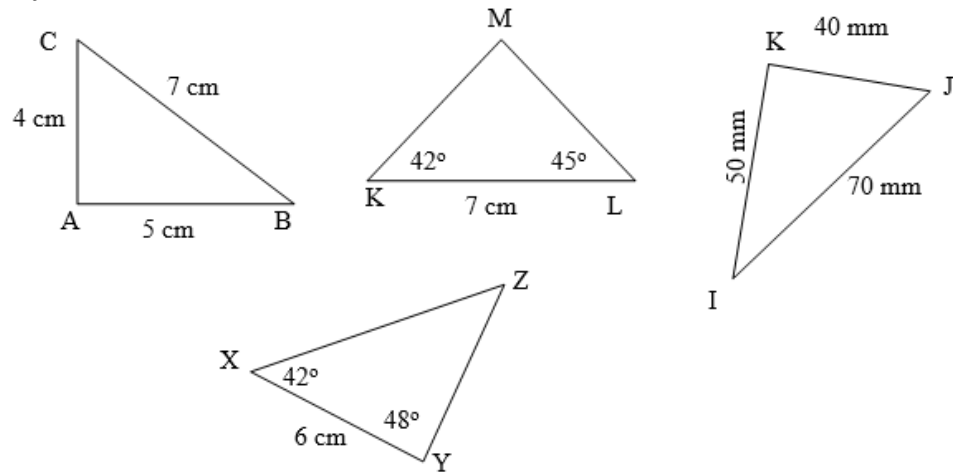
Př. 2: Na obr. je narýsováno několik trojúhelníků. Vyhledej mezi nimi dvojici shodných trojúhelníků, zapiš shodnost a odpovídající větu o shodnosti trojúhelníků.



Př. 2: Na obr. je narýsováno několik trojúhelníků. Vyhledej mezi nimi dvojici shodných trojúhelníků, zapiš shodnost a odpovídající větu o shodnosti trojúhelníků.



Př. 3: Na obr. je narýsováno několik trojúhelníků. Vyhledej mezi nimi dvojici shodných trojúhelníků, zapiš shodnost a odpovídající větu o shodnosti trojúhelníků.



Př. 3: Na obr. je narýsováno několik trojúhelníků. Vyhledej mezi nimi dvojici shodných trojúhelníků, zapiš shodnost a odpovídající větu o shodnosti trojúhelníků.

