

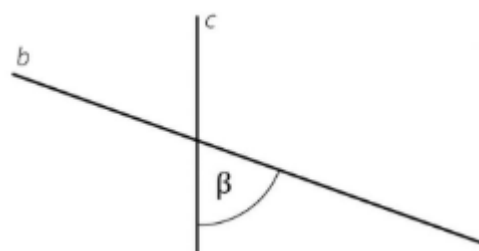
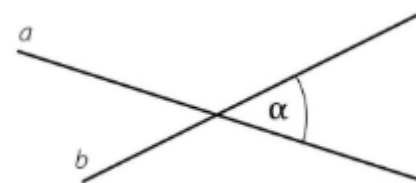
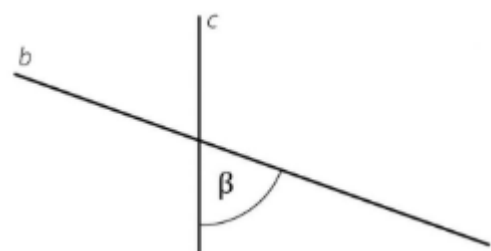
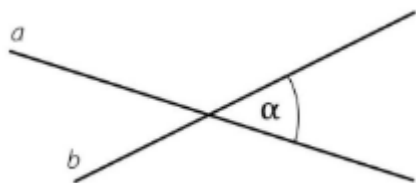
Př. 1: Vytvořte správné trojice:

SOUHLASNÉ ÚHLY	stejně velké	
VRCHOLOVÉ ÚHLY	součet je 180°	
STŘÍDAVÉ ÚHLY	stejně velké	
VEDLEJŠÍ ÚHLY	stejně velké	

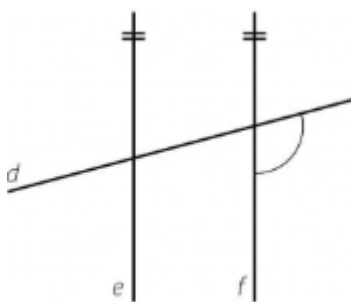
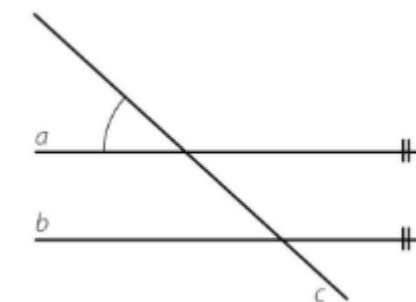
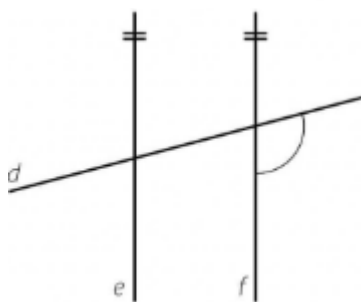
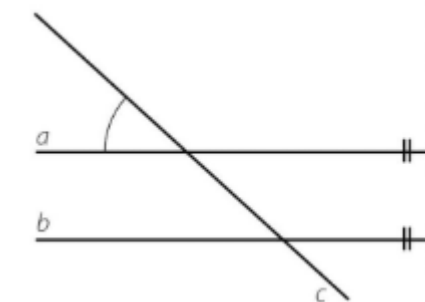
Př. 1: Vytvořte správné trojice:

SOUHLASNÉ ÚHLY	stejně velké	
VRCHOLOVÉ ÚHLY	součet je 180°	
STŘÍDAVÉ ÚHLY	stejně velké	
VEDLEJŠÍ ÚHLY	stejně velké	

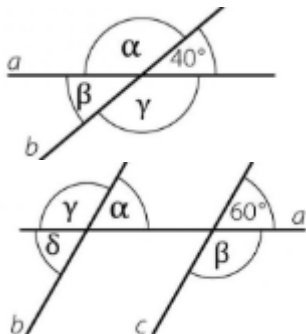
Př. 2: Označ červeným obloučkem vedlejší úhly a modrým obloučkem vrcholové úhly příslušné k daným úhlům na obrázku.



Př. 3: Vyznač modrým obloučkem střídavé, zeleným souhlasné, červeným vedlejší a černým vrcholové úhly k danému obrázku.



Př. 4: Urči velikosti úhlů:



Př. 4: Urči velikosti úhlů:

