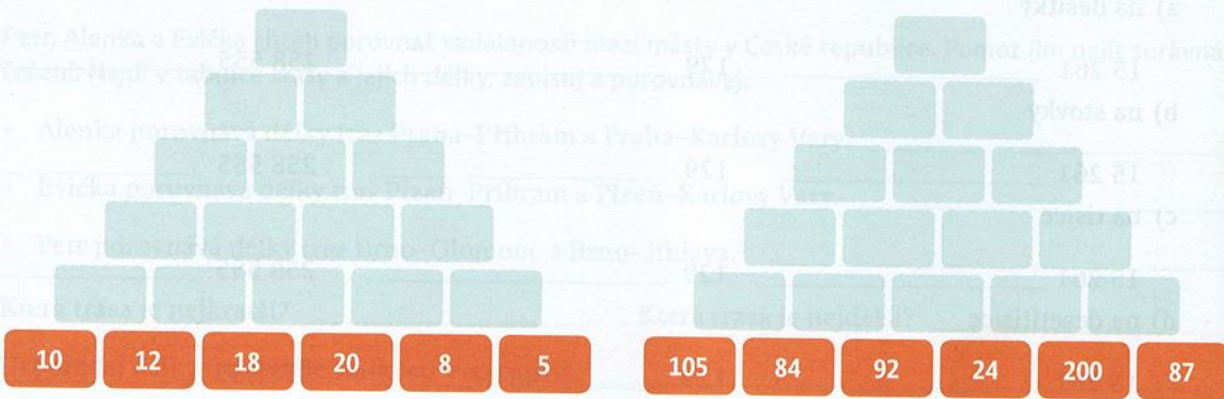
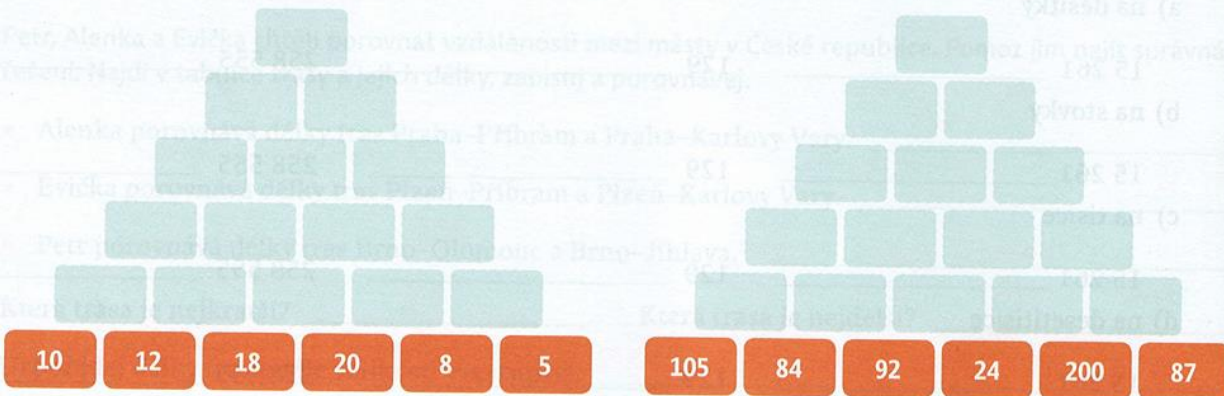


Dopočítej chybějící čísla ve sčítacích pyramidách. Ve správně vyplněné sčítací pyramidě je v každé cihličce (kromě těch ze spodního patra) číslo, které je součtem čísel z cihlíček, na kterých daná cihlička leží.



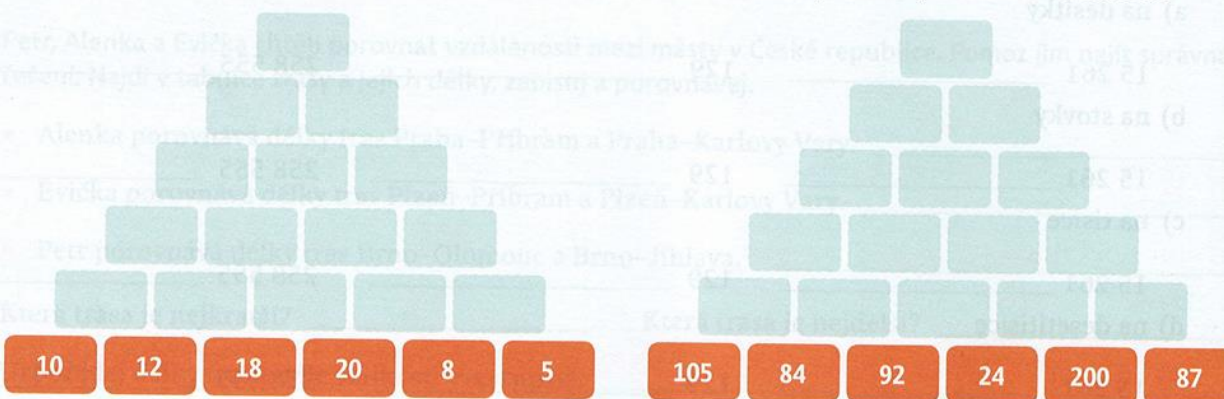
Evička si kupuje nový notebook v ceně 24 999 Kč. Potřebuje dokoupit software v ceně 2 090 Kč, bezdrátovou myš v ceně 725 Kč a sluchátka s mikrofonem v ceně 799 Kč. Jaká bude celková cena nákupu?

Dopočítej chybějící čísla ve sčítacích pyramidách. Ve správně vyplněné sčítací pyramidě je v každé cihličce (kromě těch ze spodního patra) číslo, které je součtem čísel z cihlíček, na kterých daná cihlička leží.



Evička si kupuje nový notebook v ceně 24 999 Kč. Potřebuje dokoupit software v ceně 2 090 Kč, bezdrátovou myš v ceně 725 Kč a sluchátka s mikrofonem v ceně 799 Kč. Jaká bude celková cena nákupu?

Dopočítej chybějící čísla ve sčítacích pyramidách. Ve správně vyplněné sčítací pyramidě je v každé cihličce (kromě těch ze spodního patra) číslo, které je součtem čísel z cihlíček, na kterých daná cihlička leží.



Evička si kupuje nový notebook v ceně 24 999 Kč. Potřebuje dokoupit software v ceně 2 090 Kč, bezdrátovou myš v ceně 725 Kč a sluchátka s mikrofonem v ceně 799 Kč. Jaká bude celková cena nákupu?