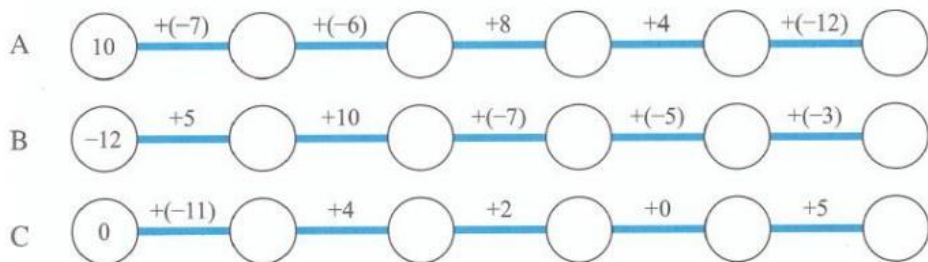


Př. 1:

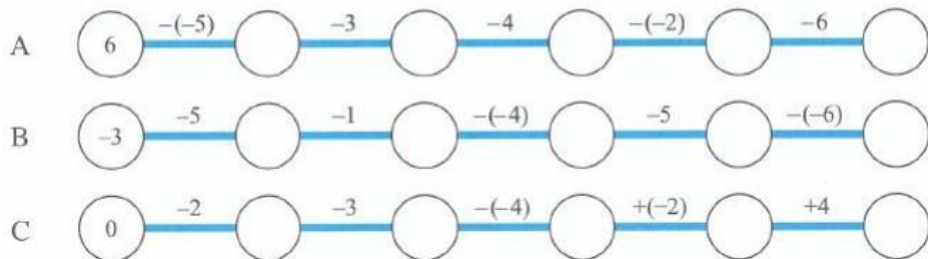
Anička položila oba černobílé čtverce na čtverec s obrázkem (neotáčela je). Kdyby viděla skrz bílou barvu (a černou ne), uviděla by jeden obrázek. Který?



Př. 2: Na konci kterého řetězce je na konci největší číslo?



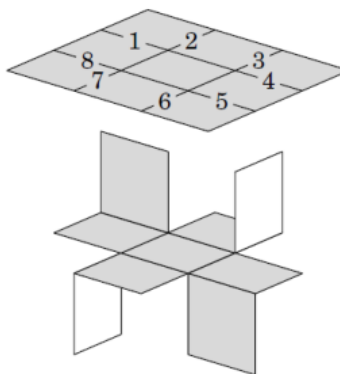
Př. 3: Zkuste počítat z paměti. Na konci kterého řetězce je v posledním políčku nejmenší číslo?



Př. 4:

Přehyby na papíře jsou číslovány (jak vidíš na obrázku). Soňa rozstříhla papír na čtyřech místech (vidíš na obrázku vpravo). Jaký je součet čísel na rozstříhnutých přehybech?

(A) 16 (B) 17 (C) 18 (D) 20 (E) 21

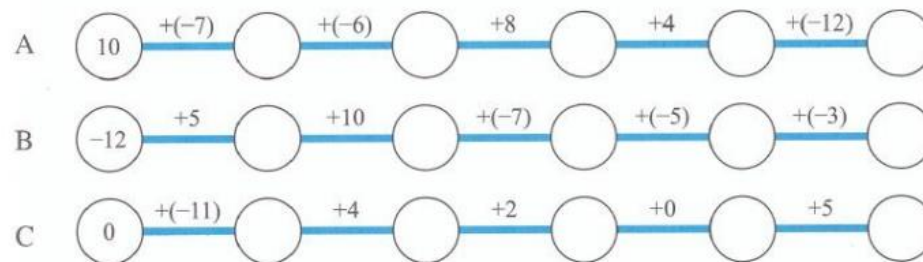


Př. 1:

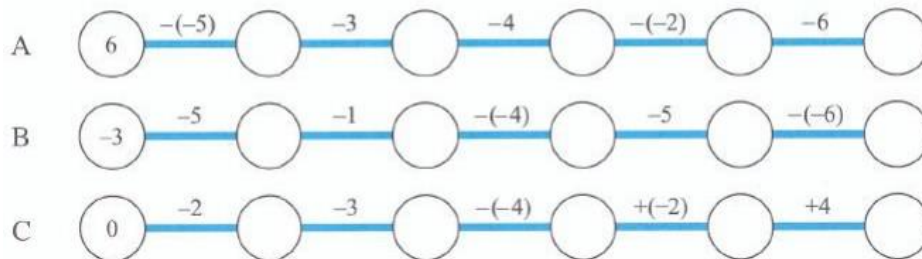
Anička položila oba černobílé čtverce na čtverec s obrázkem (neotáčela je). Kdyby viděla skrz bílou barvu (a černou ne), uviděla by jeden obrázek. Který?



Př. 2: Na konci kterého řetězce je na konci největší číslo?



Př. 3: Zkuste počítat z paměti. Na konci kterého řetězce je v posledním políčku nejmenší číslo?



Př. 4:

Přehyby na papíře jsou číslovány (jak vidíš na obrázku). Soňa rozstříhla papír na čtyřech místech (vidíš na obrázku vpravo). Jaký je součet čísel na rozstříhnutých přehybech?

(A) 16 (B) 17 (C) 18 (D) 20 (E) 21

