

Př. 1: Vypočítej:

$$3,4 \cdot (7,26 - 5,3) =$$

$$(8,24 + 0,47) \cdot (5,6 - 2 \cdot 2,8) =$$

$$3,7 \cdot (4,2201 - 3,27) =$$

Př. 2: Vyděl:

$$18,5 : 5 =$$

$$33,04 : 4 =$$

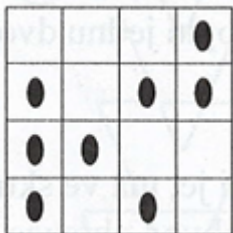
$$30,6 : 2 =$$

$$104,36 : 4 =$$

$$48,3 : 6 =$$

$$16,1 : 7 =$$

Př. 3: Maminka chtěla perník s mandlemi (obrázek) rozdělit čtyřem dětem. Každému ukrojila stejný díl velikostí i tvarem. Každý měl na svém kousku dvě mandle. Dokážeš to také?



Př. 4: Spotřeba plynu v domácnosti činila: v lednu $6,75 \text{ m}^3$; v únoru $5,25 \text{ m}^3$; v březnu o $0,80 \text{ m}^3$ méně než v lednu. Jaká byla celková spotřeba plynu za čtvrt roku?

Př. 5: Vypočítej:

$$396 : 15 =$$

$$1158,24 : 24 =$$

$$36526,36 : 52 =$$

$$2698,25 : 43 =$$

$$133,4 : 23 =$$

Př. 1: Vypočítej:

$$3,4 \cdot (7,26 - 5,3) =$$

$$(8,24 + 0,47) \cdot (5,6 - 2 \cdot 2,8) =$$

$$3,7 \cdot (4,2201 - 3,27) =$$

Př. 2: Vyděl:

$$18,5 : 5 =$$

$$33,04 : 4 =$$

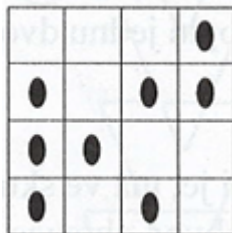
$$30,6 : 2 =$$

$$104,36 : 4 =$$

$$48,3 : 6 =$$

$$16,1 : 7 =$$

Př. 3: Maminka chtěla perník s mandlemi (obrázek) rozdělit čtyřem dětem. Každému ukrojila stejný díl velikostí i tvarem. Každý měl na svém kousku dvě mandle. Dokážeš to také?



Př. 4: Spotřeba plynu v domácnosti činila: v lednu $6,75 \text{ m}^3$; v únoru $5,25 \text{ m}^3$; v březnu o $0,80 \text{ m}^3$ méně než v lednu. Jaká byla celková spotřeba plynu za čtvrt roku?

Př. 5: Vypočítej:

$$396 : 15 =$$

$$1158,24 : 24 =$$

$$36526,36 : 52 =$$

$$2698,25 : 43 =$$

$$133,4 : 23 =$$

Př. 1: Vypočítej:

$$3,4 \cdot (7,26 - 5,3) =$$

$$(8,24 + 0,47) \cdot (5,6 - 2 \cdot 2,8) =$$

$$3,7 \cdot (4,2201 - 3,27) =$$

Př. 2: Vyděl:

$$18,5 : 5 =$$

$$33,04 : 4 =$$

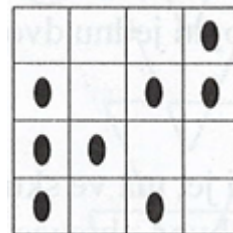
$$30,6 : 2 =$$

$$104,36 : 4 =$$

$$48,3 : 6 =$$

$$16,1 : 7 =$$

Př. 3: Maminka chtěla perník s mandlemi (obrázek) rozdělit čtyřem dětem. Každému ukrojila stejný díl velikostí i tvarem. Každý měl na svém kousku dvě mandle. Dokážeš to také?



Př. 4: Spotřeba plynu v domácnosti činila: v lednu $6,75 \text{ m}^3$; v únoru $5,25 \text{ m}^3$; v březnu o $0,80 \text{ m}^3$ méně než v lednu. Jaká byla celková spotřeba plynu za čtvrt roku?

Př. 5: Vypočítej:

$$396 : 15 =$$

$$1158,24 : 24 =$$

$$36526,36 : 52 =$$

$$2698,25 : 43 =$$

$$133,4 : 23 =$$