




Př. 1: Vybarvi sítě, ze kterých je možné složit krychli:




Př. 1: Vybarvi sítě, ze kterých je možné složit krychli:



Př. 2: Jsou sítě krychlí kompletní? Dodělej chybějící části.



Př. 2: Jsou sítě krychlí kompletní? Dodělej chybějící části.



Př. 3: Dopln tabulku:

rozměr hrany a	obsah čtverce	povrch krychle
40 mm		
4 cm		
12 mm		
12 cm		
83 cm		

Př. 3: Dopln tabulku:

rozměr hrany a	obsah čtverce	povrch krychle
40 mm		
4 cm		
12 mm		
12 cm		
83 cm		