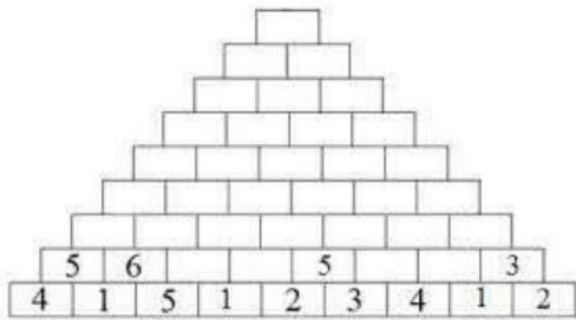
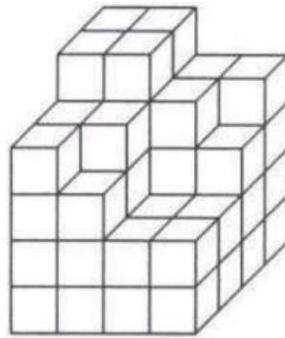


Př. 1: Vypočítej:



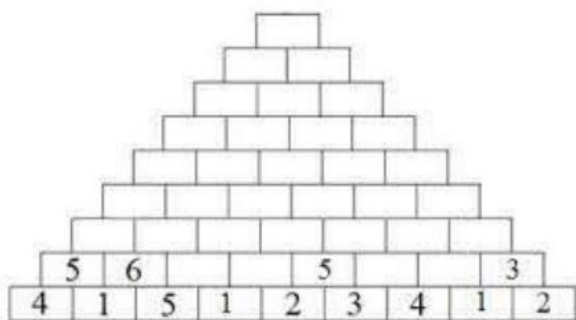
Př. 2: Z kolika krychlí je stavba postavena?



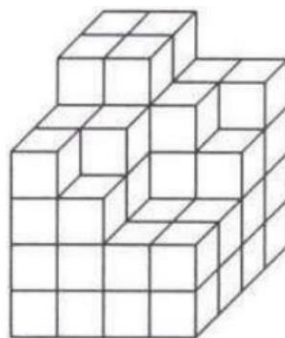
Př. 3: Doplň tabulku.

A	B	C	A + B	A - C	C - B
1 000	25	50			
	30		9 000	10	
2 736	12	18			
400			520	10	

Př. 1: Vypočítej:



Př. 2: Z kolika krychlí je stavba postavena?



Př. 3: Doplň tabulku.

A	B	C	A + B	A - C	C - B
1 000	25	50			
	30		9 000	10	
2 736	12	18			
400			520	10	