

Př. 1: Oprav chyby:

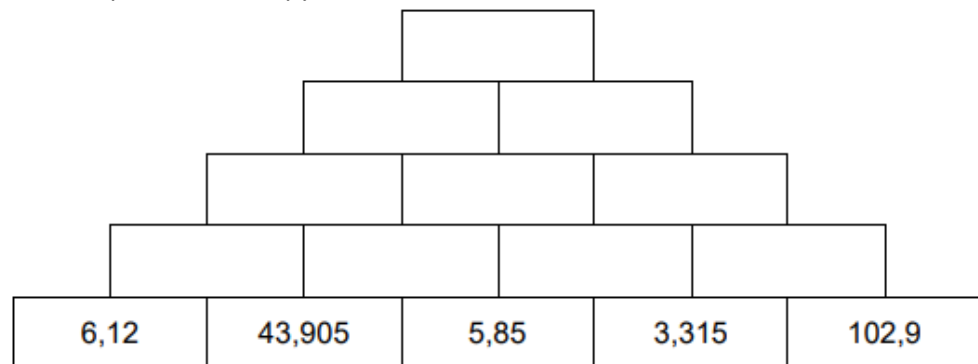
$$12,35 + 8,2 + 0,14 + 5,78 = 62,47$$

$$52,8725 + 9,0025 + 6,3014 = 68,1764$$

$$3,14 + 12,71 + 145,36 + 8518,94 = 8680,15$$

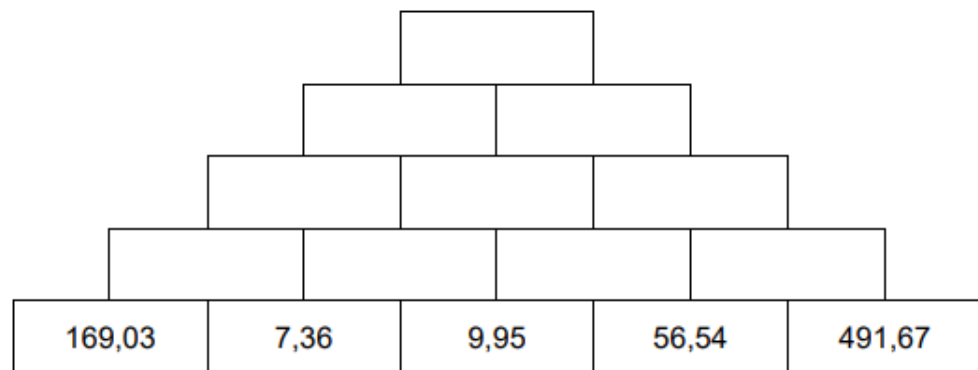
$$200,05 + 30,008 + 15,34 = 245,398$$

Př. 2: Doplň součtovou pyramidou:



Př. 3: Př. 4: Maminka šla nakoupit a koupila bochník chleba o hmotnosti 750 g za 35,70 Kč, čtvrtkilogramové máslo za 55,90 Kč a 360 g salámu za 56,40 Kč. Kolik za nákup zaplatila a jaká byla jeho hmotnost?

Př. 4: Doplň součtovou pyramidou:



Př. 1: Oprav chyby:

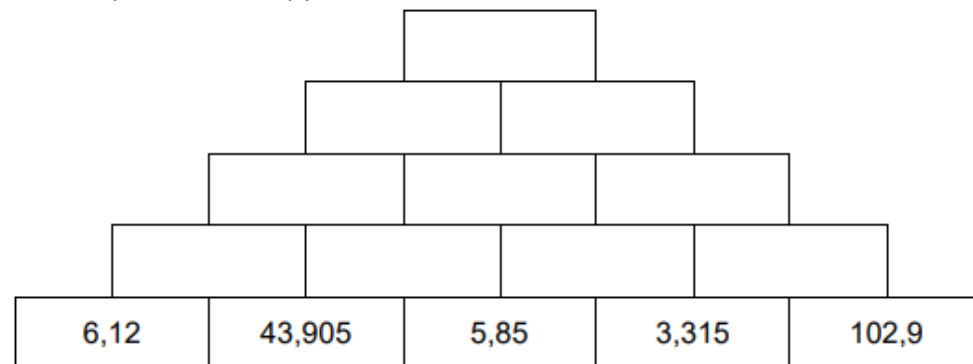
$$12,35 + 8,2 + 0,14 + 5,78 = 62,47$$

$$52,8725 + 9,0025 + 6,3014 = 68,1764$$

$$3,14 + 12,71 + 145,36 + 8518,94 = 8680,15$$

$$200,05 + 30,008 + 15,34 = 245,398$$

Př. 2: Doplň součtovou pyramidou:



Př. 3: Př. 4: Maminka šla nakoupit a koupila bochník chleba o hmotnosti 750 g za 35,70 Kč, čtvrtkilogramové máslo za 55,90 Kč a 360 g salámu za 56,40 Kč. Kolik za nákup zaplatila a jaká byla jeho hmotnost?

Př. 4: Doplň součtovou pyramidou:

