
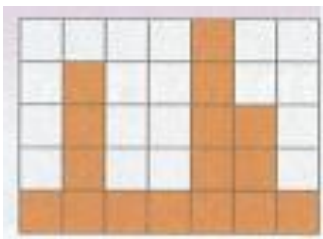
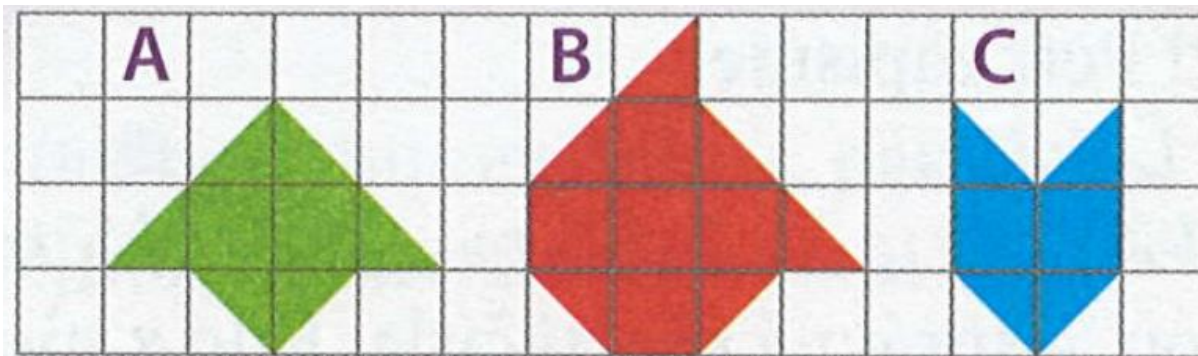


# ADVENTNÍ KALENDÁŘ – 1. 12.

Př. 1: Stavby významného architekta Antonia Gaudiho můžeš potkat po celé Barceloně. Mezi jeho slavná díla patří i obytný dům Casa Mila s obrovskými byty. Rozlohu největšího bytu v tomto unikátním činžovním domě zjistíš, když vypočítáš obsah oranžového útvaru na obrázku (délka strany každého čtverce je 10m).



Př. 2: Obsah jednoho čtverečku ve čtvercové síti je  $2\text{ cm}^2$ . Rozhodni o každém z následujících tvrzení, zda je pravdivé, či nikoli.



- a) Obsah obrazce C je  $8\text{ cm}^2$ .
- b) Obsah obrazce A je o  $2\text{ cm}^2$  menší než obsah obrazce B.
- c) Dva z obrazců mají stejný obsah.