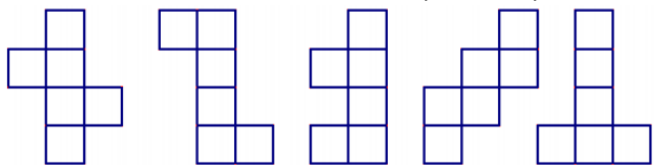
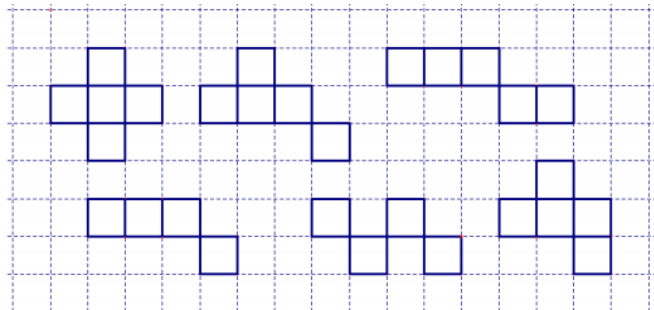


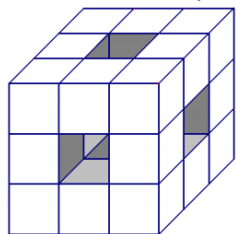
Př. 3: Rozhodněte, z které sítě lze vytvořit krychli.



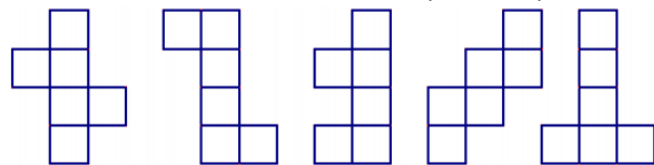
Př. 4: Dokresli síť tak aby bylo možné z obrázců sestrojít krychli.



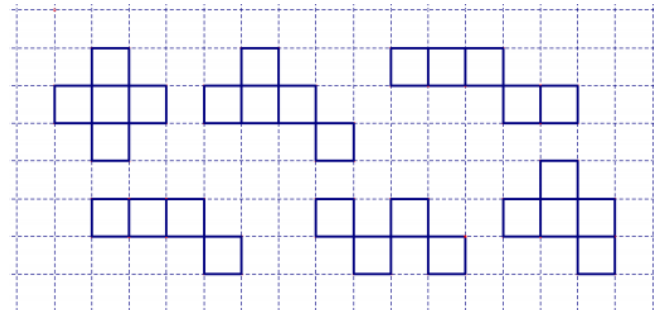
Př. 5: Z kolika krychlí je složeno těleso?



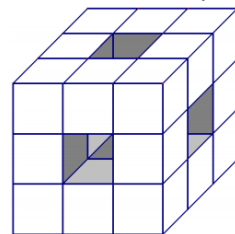
Př. 3: Rozhodněte, z které sítě lze vytvořit krychli.



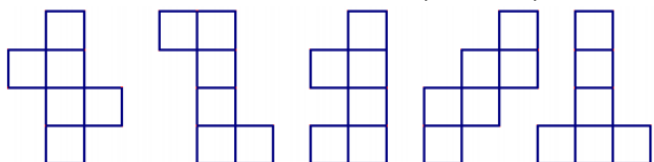
Př. 4: Dokresli síť tak aby bylo možné z obrázců sestrojít krychli.



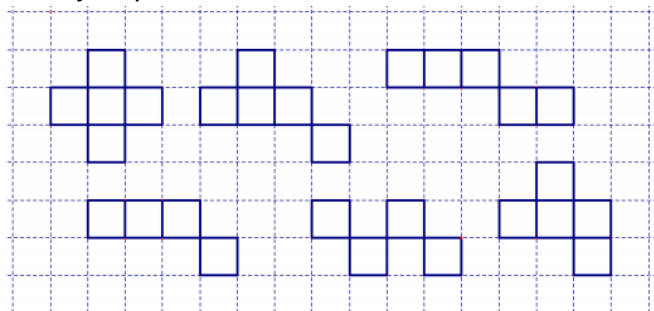
Př. 5: Z kolika krychlí je složeno těleso?



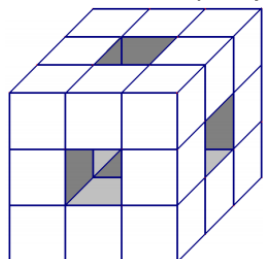
Př. 3: Rozhodněte, z které sítě lze vytvořit krychli.



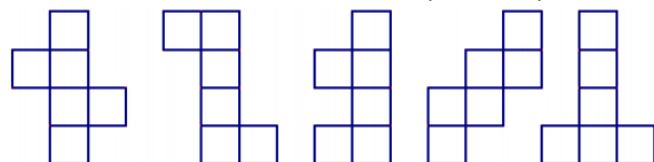
Př. 4: Dokresli síť tak aby bylo možné z obrázců sestrojít krychli.



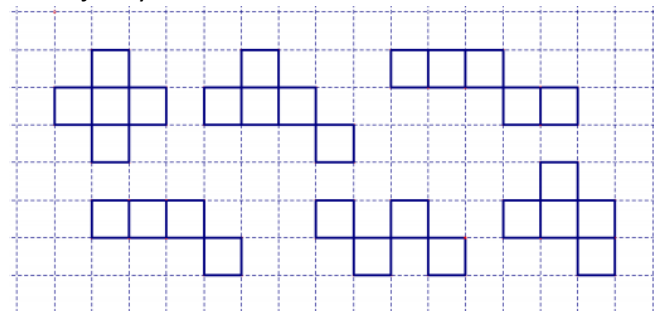
Př. 5: Z kolika krychlí je složeno těleso?



Př. 3: Rozhodněte, z které sítě lze vytvořit krychli.



Př. 4: Dokresli síť tak aby bylo možné z obrázců sestrojít krychli.



Př. 5: Z kolika krychlí je složeno těleso?

