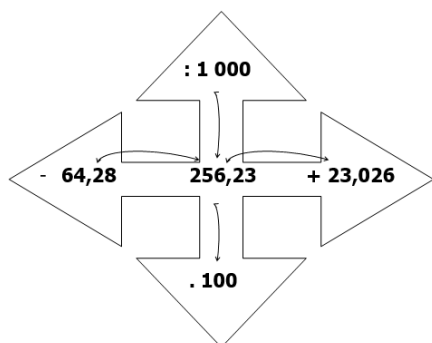


Př. 1: Vypočítej:



Př. 2:

$3 \cdot 0,8 =$

$5,3 \cdot 4 =$

$3,05 \cdot 6 =$

$7 \cdot 0,5 =$

$1,4 \cdot 5 =$

$4,12 \cdot 3 =$

$8 \cdot 0,9 =$

$2,4 \cdot 3 =$

$0,51 \cdot 9 =$

Př. 3: V jedné roli je 18,7 m látky.

Do skladu dostali 10 takových rolí. Kolik metrů této látky celkem dostali?

Př. 4: Gymnastka získala za své vystoupení na kladině čtyřikrát známku 9,6 bodu a dvakrát 9,45 bodu. Jaké bylo její výsledné hodnocení, jestliže se všechny známky sčítaly?

Př. 5: Vypočítej:

$12,7 \cdot 2,3 =$

$5,26 \cdot 7 =$

$5,3 \cdot 1,4 =$

$5,8 \cdot 4,7 =$

$15,02 \cdot 8 =$

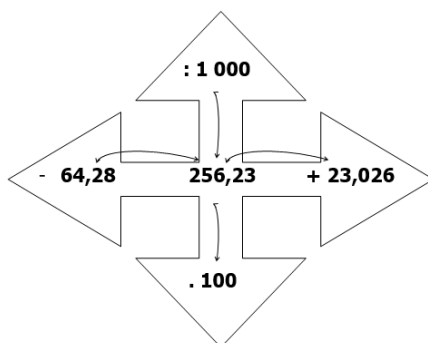
$12,05 \cdot 2,3 =$

$8,1 \cdot 2,06 =$

$5,23 \cdot 1,5 =$

$8,4 \cdot 5,1 =$

Př. 1: Vypočítej:



Př. 2:

$3 \cdot 0,8 =$

$5,3 \cdot 4 =$

$3,05 \cdot 6 =$

$7 \cdot 0,5 =$

$1,4 \cdot 5 =$

$4,12 \cdot 3 =$

$8 \cdot 0,9 =$

$2,4 \cdot 3 =$

$0,51 \cdot 9 =$

Př. 3: V jedné roli je 18,7 m látky.

Do skladu dostali 10 takových rolí. Kolik metrů této látky celkem dostali?

Př. 4: Gymnastka získala za své vystoupení na kladině čtyřikrát známku 9,6 bodu a dvakrát 9,45 bodu. Jaké bylo její výsledné hodnocení, jestliže se všechny známky sčítaly?

Př. 5: Vypočítej:

$12,7 \cdot 2,3 =$

$5,26 \cdot 7 =$

$5,3 \cdot 1,4 =$

$5,8 \cdot 4,7 =$

$15,02 \cdot 8 =$

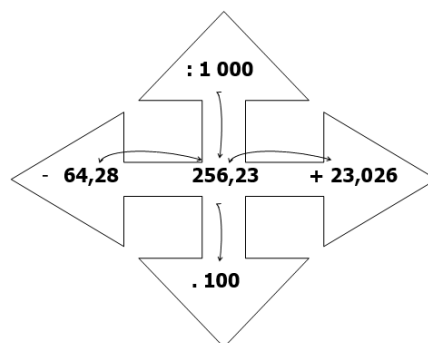
$12,05 \cdot 2,3 =$

$8,1 \cdot 2,06 =$

$5,23 \cdot 1,5 =$

$8,4 \cdot 5,1 =$

Př. 1: Vypočítej:



Př. 2:

$3 \cdot 0,8 =$

$5,3 \cdot 4 =$

$3,05 \cdot 6 =$

$7 \cdot 0,5 =$

$1,4 \cdot 5 =$

$4,12 \cdot 3 =$

$8 \cdot 0,9 =$

$2,4 \cdot 3 =$

$0,51 \cdot 9 =$

Př. 3: V jedné roli je 18,7 m látky.

Do skladu dostali 10 takových rolí. Kolik metrů této látky celkem dostali?

Př. 4: Gymnastka získala za své vystoupení na kladině čtyřikrát známku 9,6 bodu a dvakrát 9,45 bodu. Jaké bylo její výsledné hodnocení, jestliže se všechny známky sčítaly?

Př. 5: Vypočítej:

$12,7 \cdot 2,3 =$

$5,26 \cdot 7 =$

$5,3 \cdot 1,4 =$

$5,8 \cdot 4,7 =$

$15,02 \cdot 8 =$

$12,05 \cdot 2,3 =$

$8,1 \cdot 2,06 =$

$5,23 \cdot 1,5 =$

$8,4 \cdot 5,1 =$