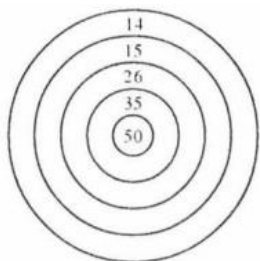


Př. 1: Jana koupila 3 sešity po 9 Kč, 2 pera po 15 Kč a album. Kolik korun stálo album, jestliže jí ze 150 Kč zbylo 43 Kč?

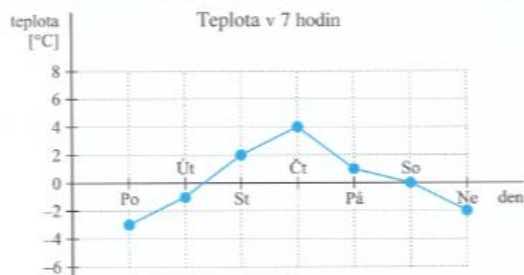
Př. 2: Představ si, že házíš šipky do nakresleného terče. Kolik potřebuješ nejméně šipek a kam se musíš trefit, abys dosáhl konečného součtu 120 bodů?



Potřebuji nejméně _____ šipek (šipky).
Trefím se do čísel _____

Př. 3:

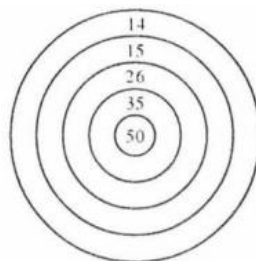
Bára zapisovala celý týden pravidelně v 7 hodin venkovní teplotu.



Př. 4: $30.20.0,5=$
 $4.19.2,5=$
 $3,6.0,05.200=$
 $12,5.0,14.8=$
 $0,5.0,35.200=$
 $2,5.16.4=$

Př. 1: Jana koupila 3 sešity po 9 Kč, 2 pera po 15 Kč a album. Kolik korun stálo album, jestliže jí ze 150 Kč zbylo 43 Kč?

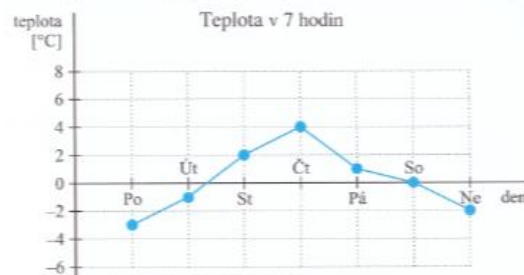
Př. 2: Představ si, že házíš šipky do nakresleného terče. Kolik potřebuješ nejméně šipek a kam se musíš trefit, abys dosáhl konečného součtu 120 bodů?



Potřebuji nejméně _____ šipek (šipky).
Trefím se do čísel _____

Př. 3:

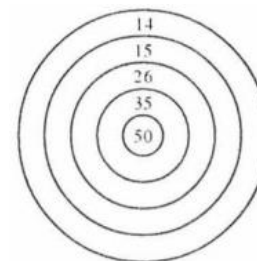
Bára zapisovala celý týden pravidelně v 7 hodin venkovní teplotu.



Př. 4: $30.20.0,5=$
 $4.19.2,5=$
 $3,6.0,05.200=$
 $12,5.0,14.8=$
 $0,5.0,35.200=$
 $2,5.16.4=$

Př. 1: Jana koupila 3 sešity po 9 Kč, 2 pera po 15 Kč a album. Kolik korun stálo album, jestliže jí ze 150 Kč zbylo 43 Kč?

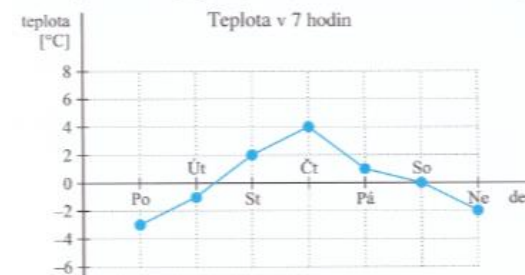
Př. 2: Představ si, že házíš šipky do nakresleného terče. Kolik potřebuješ nejméně šipek a kam se musíš trefit, abys dosáhl konečného součtu 120 bodů?



Potřebuji nejméně _____ šipek (šipky).
Trefím se do čísel _____

Př. 3:

Bára zapisovala celý týden pravidelně v 7 hodin venkovní teplotu.



Př. 4: $30.20.0,5=$
 $4.19.2,5=$
 $3,6.0,05.200=$
 $12,5.0,14.8=$
 $0,5.0,35.200=$
 $2,5.16.4=$