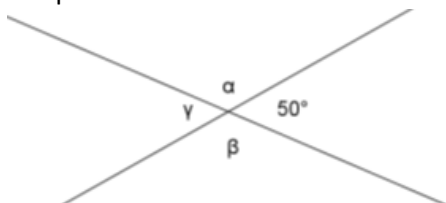
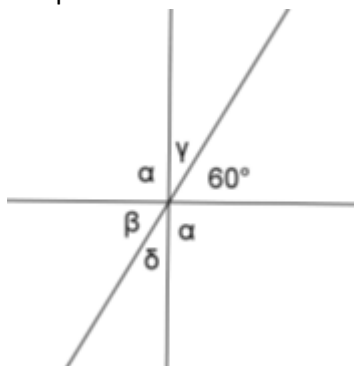


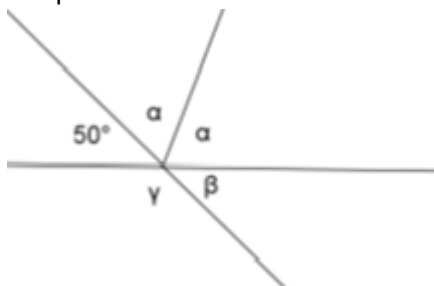
Př. 1: Urči velikosti úhlů na obrázcích bez použití úhломěru.



Př. 2: Urči velikosti úhlů na obrázcích bez použití úhломěru.



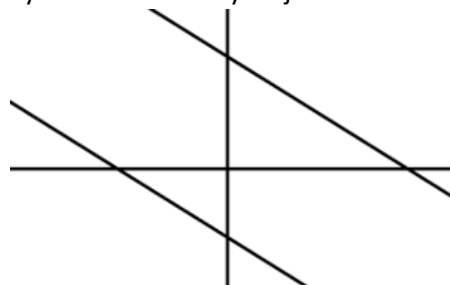
Př. 3: Urči velikosti úhlů na obrázcích bez použití úhломěru.



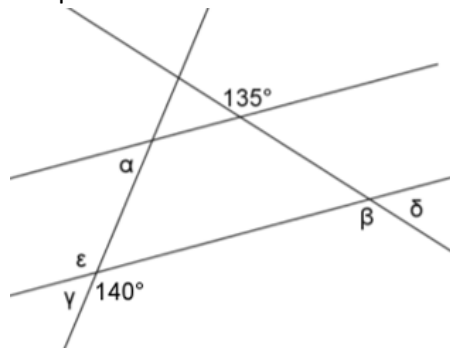
Př. 4: Urči velikosti úhlů na obrázcích bez použití úhломěru.



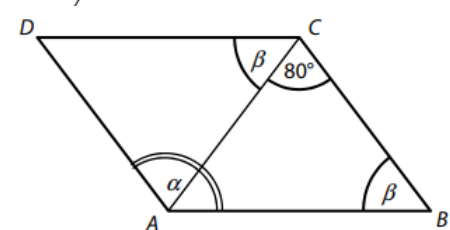
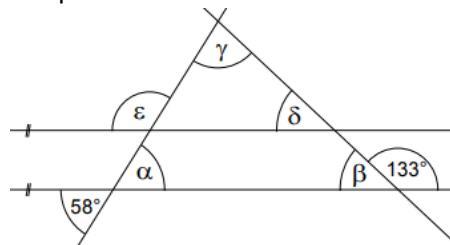
Př. 5: Na schématu železničních tratí vyznač shodné úhly stejnou barvou:



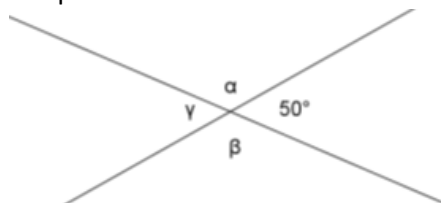
Př. 6: Urči velikosti úhlů na obrázcích bez použití úhломěru.



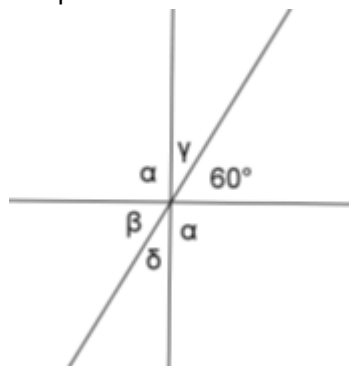
Př. 7: Urči velikosti úhlů na obrázcích bez použití úhломěru.



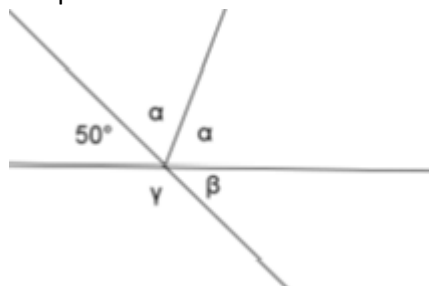
Př. 1: Urči velikosti úhlů na obrázcích bez použití úhломěru.



Př. 2: Urči velikosti úhlů na obrázcích bez použití úhломěru.



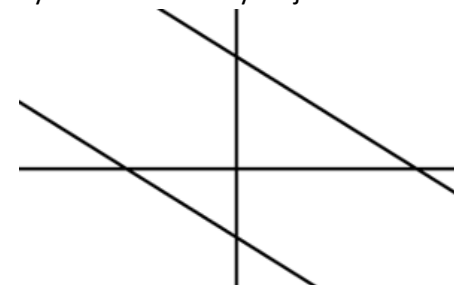
Př. 3: Urči velikosti úhlů na obrázcích bez použití úhломěru.



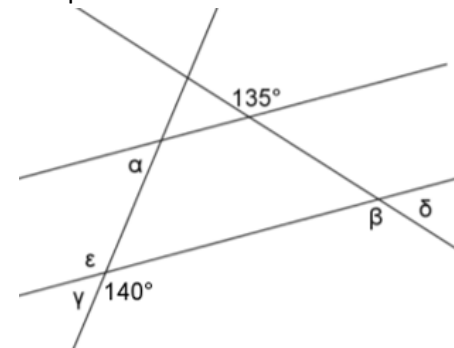
Př. 4: Urči velikosti úhlů na obrázcích bez použití úhломěru.



Př. 5: Na schématu železničních tratí vyznač shodné úhly stejnou barvou:



Př. 6: Urči velikosti úhlů na obrázcích bez použití úhломěru.



Př. 7: Urči velikosti úhlů na obrázcích bez použití úhломěru.

