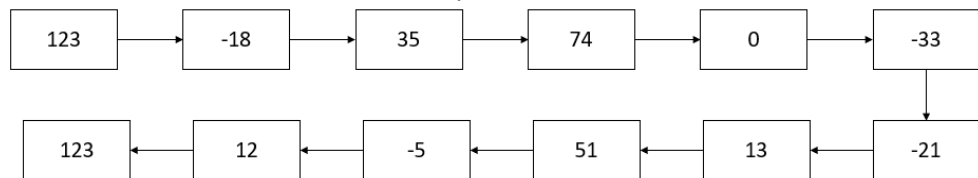
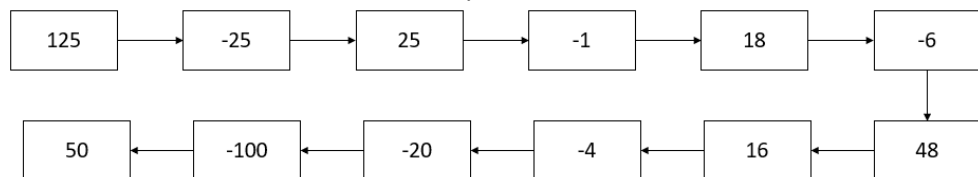


Př. 1: Pomocí sčítání nebo odčítání doplň:



Př. 2: Pomocí násobení nebo dělení doplň:



Př. 3: Vypočítej:

3. $(-6) + (-6) \cdot 3 =$

$(-4) \cdot 5 + (-5) \cdot (-2) =$

8. $(-7+4)=$

3. $(-5 - 4) =$

$12 - 3 \cdot 6 =$

$(-9) : (-3) + (-16) : (-4) =$

$72 + (-12) \cdot 0 =$

$(-48) \cdot (-1) + (-54) : 9 =$

$(-18) + (-5 - 3) =$

4. $6 + (-8) \cdot 3 =$

Př. 4: Vypočítej:

a) $4 \cdot 12 + 7 \cdot [(5 \cdot 8 - 7) + 11 \cdot 2 - 48] =$

b) $(-2) \cdot [8 \cdot (15 - 7) - 2 \cdot 7] + 2 =$

c) $142 - [3 \cdot 2 + (5 \cdot 8 - 6) - 2] - 5 =$

d) $\{-53 + [11 - (17 + 5) : 2] - 39 : 3\} \cdot 2 + 8 \cdot 4 =$

Př. 5: Vypočítej:

a) $-169 + (-555) =$

a) $1171 - (-644) + 7723 + (-102) =$

b) $-237 + (-375) =$

b) $194 - (-762) + (-4523) - 5560 =$

c) $-124 + (-248) =$

c) $1198 - (-774) - (-2111) + 776 =$

d) $-568 + (-89) =$

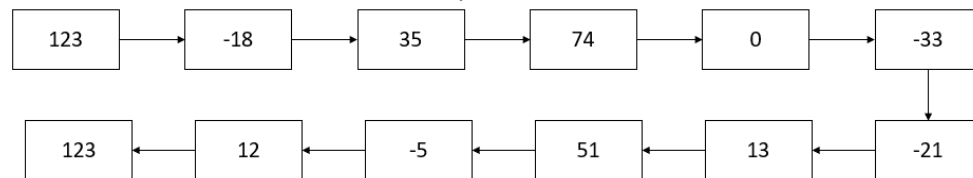
d) $9999 - (-625) - (-5555) + 0 =$

e) $-354 + (-177) =$

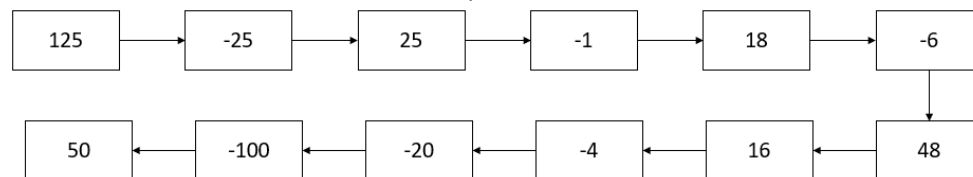
e) $888 - (-772) - 887 + (-7741) =$

Př. 6: Nákladní vlak odstavil 7 vagónů a přibral 4 vagóny. V příští stanici odstavil 2 vagóny a přibral 8 vagónů. V další stanici odstavil 11 vagónů a přibral 6 vagónů. Má nyní vagónů více nebo méně? O kolik?

Př. 1: Pomocí sčítání nebo odčítání doplň:



Př. 2: Pomocí násobení nebo dělení doplň:



Př. 3: Vypočítej:

3. $(-6) + (-6) \cdot 3 =$

$(-4) \cdot 5 + (-5) \cdot (-2) =$

8. $(-7+4)=$

3. $(-5 - 4) =$

$12 - 3 \cdot 6 =$

$(-9) : (-3) + (-16) : (-4) =$

$72 + (-12) \cdot 0 =$

$(-48) \cdot (-1) + (-54) : 9 =$

$(-18) + (-5 - 3) =$

4. $6 + (-8) \cdot 3 =$

Př. 4: Vypočítej:

a) $4 \cdot 12 + 7 \cdot [(5 \cdot 8 - 7) + 11 \cdot 2 - 48] =$

b) $(-2) \cdot [8 \cdot (15 - 7) - 2 \cdot 7] + 2 =$

c) $142 - [3 \cdot 2 + (5 \cdot 8 - 6) - 2] - 5 =$

d) $\{-53 + [11 - (17 + 5) : 2] - 39 : 3\} \cdot 2 + 8 \cdot 4 =$

Př. 5: Vypočítej:

a) $-169 + (-555) =$

a) $1171 - (-644) + 7723 + (-102) =$

b) $-237 + (-375) =$

b) $194 - (-762) + (-4523) - 5560 =$

c) $-124 + (-248) =$

c) $1198 - (-774) - (-2111) + 776 =$

d) $-568 + (-89) =$

d) $9999 - (-625) - (-5555) + 0 =$

e) $-354 + (-177) =$

e) $888 - (-772) - 887 + (-7741) =$

Př. 6: Nákladní vlak odstavil 7 vagónů a přibral 4 vagóny. V příští stanici odstavil 2 vagóny a přibral 8 vagónů. V další stanici odstavil 11 vagónů a přibral 6 vagónů. Má nyní vagónů více nebo méně? O kolik?